

Тест по темам «Элементарная математика», «Целые числа», «Натуральный ряд чисел», «Сравнение чисел»

Вариант 1

Задание 1.

Вычислите и введите ответ.

$$960 : 16 = \underline{\quad}$$

Задание 2.

Вычислите и введите ответ.

$$235 + 386 = \underline{\quad}$$

$$367 + 357 = \underline{\quad}$$

$$395 + 268 = \underline{\quad}$$

Задание 3.

Вычислите и введите ответ.

$$133 + 116 = \underline{\quad}$$

$$435 + 523 = \underline{\quad}$$

$$643 + 357 = \underline{\quad}$$

Задание 4.

Вычислите и введите ответ.

$$64 - 45 = \underline{\quad}$$

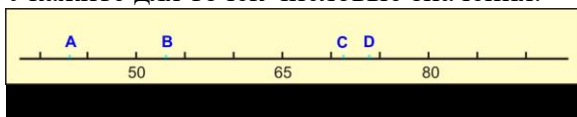
$$27 + 65 = \underline{\quad}$$

$$72 - 53 = \underline{\quad}$$

$$36 + 36 = \underline{\quad}$$

Задание 5.

Укажите для точек числовые значения.



А) 43 Б) 53 В) 71 Г) 74 Д) 66 Е) 49

Варианты ответов:

1) А 2) В 3) С 4) D

	А	Б	В	Г	Д	Е
Ответ						

Задание 6.

Выберите числа, которые больше 502006 и меньше 502600.

А) 502009

Б) 502509

В) 502060

Г) 502090

Д) 502599

Е) 502100

Ж) 502493

З) 502205

И) 502461

Й) 502018

К) 502006

Л) 502600

М) 502000

Н) 50360

О) 502603

П) 512307

Задание 7.

Запишите числа в таблицу.

	класс тысяч			класс единиц		
	сотни	десятки	единицы	сотни	десятки	единицы
пятьдесят тысяч четыре	—	—	—	—	—	—
сто семьдесят тысяч двадцать девять	—	—	—	—	—	—
тридцать тысяч восемьдесят	—	—	—	—	—	—
сто три тысячи шесть	—	—	—	—	—	—
семьсот тысяч девяносто четыре	—	—	—	—	—	—
шестьсот тысяч два	—	—	—	—	—	—

Задание 8.

Прослушайте и укажите соответствующие числа.

А) 300080 Б) 301005 В) 7040 Г) 60319 Д) 3015

Варианты ответов:

1) 2) 3) 4)

Ответ	А	Б	В	Г	Д

Задание 9.

Решите задачи и введите ответы.

Задача 1

В тетради нарисовано 13 квадратов, а треугольников – на 8 меньше. Сколько всего геометрических фигур нарисовано в тетради?

Ответ: всего нарисовано __ геометрических фигур (фигуры).

Задача 2

В огороде посадили 12 грядок чеснока, что на 4 грядки больше, чем лука. Сколько всего грядок овощей посадили?

Ответ: всего посадили __ грядок (грядки) овощей.

Задание 10.

Решите задачи и введите ответы.

Задача 1

В первый день спортсмены завоевали 15 медалей, а во второй – 9 медалей. На сколько медалей меньше завоевали спортсмены во второй день, чем в первый?

Ответ: во второй день спортсмены завоевали на _ медалей (медали) меньше, чем в первый.

Задача 2

На остановке в автобус вошло 7 пассажиров, а вышло на 6 пассажиров больше. Сколько пассажиров вышло из автобуса?

Ответ: из автобуса вышло __ пассажиров (пассажира).

Ответы к заданиям для варианта 1

Задание 1.

Правильный ответ: **60**

Задание 2.

Правильный ответ: **621, 724, 663**

Задание 3.

Правильный ответ: **249, 958, 1000**

Задание 4.

Правильный ответ: **19, 92, 19, 72**

Задание 5.

Правильный ответ:	А	Б	В	Г	Д	Е
	1	2	3	4		

Задание 6.

Правильный ответ: **А, Б, В, Г, Д, Е, Ж, З, И, Й**

Задание 7.

Правильный ответ: **_, 5, 0, 0, 0, 4, 1, 7, 0, 0, 2, 9, _, 3, 0, 0, 8, 0, 1, 0, 3, 0, 0, 6, 7, 0, 0, 0, 9, 4, 6, 0, 0, 0, 0, 2**

Задание 8.

Правильный ответ:	А	Б	В	Г	Д
	1	2	3	4	

Задание 9.

Правильный ответ: **18, 20**

Задание 10.

Правильный ответ: **6, 13**

Тест по темам «Элементарная математика», «Целые числа», «Натуральный ряд чисел», «Сравнение чисел»

Вариант 2


Задание 1.

Вычислите и введите ответ.

$$420 : 14 = \underline{\quad}$$

Задание 2.

Укажите для точек числовые значения.



А) 49 Б) 64 В) 78 Г) 96 Д) 59 Е) 83

Варианты ответов:

1) А 2) В 3) С 4) D

Ответ	А	Б	В	Г	Д	Е

Задание 3.

Вычислите и введите ответ.


$$676 - 388 = \underline{\quad}$$

$$968 - 391 = \underline{\quad}$$

$$884 - 195 = \underline{\quad}$$

Задание 4.

Укажите для точек числовые значения.



А) 39 Б) 49 В) 42 Г) 55 Д) 56 Е) 48

Варианты ответов:

1) A 2) B 3) C 4) D

Ответ	А	Б	В	Г	Д	Е

Задание 5.

Вычислите и введите ответ.

$$45 - 17 = \underline{\quad}$$

$$27 + 24 = \underline{\quad}$$

$$65 - 28 = \underline{\quad}$$

$$24 + 38 = \underline{\quad}$$

Задание 6.

Сравните числа и вставьте нужный знак сравнения.

$$5\ 673 \underline{\quad} 5\ 675$$

$$69\ 341 \underline{\quad} 7\ 839$$

$$51\ 046 \underline{\quad} 50\ 146$$

$$47\ 274 \underline{\quad} 427\ 999$$

$$712\ 309 \underline{\quad} 721\ 509$$

$$847\ 210 \underline{\quad} 847\ 199$$

Задание 7.

Укажите для числа его буквенную запись (если возможно).

А) 52206 Б) 522006 В) 502206 Г) 50206 Д) 50026

Варианты ответов:

1) пятьдесят две тысячи двести шесть 2) пятьсот двадцать две тысячи шесть 3) пятьсот две тысячи двести шесть 4) пятьдесят тысяч двести шесть 5) пятьдесят тысяч двадцать шесть 6) пятьсот две тысячи шесть

Ответ	А	Б	В	Г	Д

Задание 8.

Укажите для каждой буквенной записи соответствующее число.

А) 8951 Б) 8950 В) 8001 Г) 8050 Д) 8051 Е) 8901

Варианты ответов:

1) восемь тысяч девятьсот пятьдесят один 2) восемь тысяч девятьсот пятьдесят 3) восемь тысяч один 4) восемь тысяч пятьдесят 5) восемь тысяч пятьдесят один

Ответ	А	Б	В	Г	Д	Е

Задание 9.

Решите задачи и введите ответы.

Задача 1

В первый день маляры покрасили 11 балконов, а во второй – 6 балконов. На сколько балконов больше покрасили в первый день, чем во второй?

Ответ: в первый день покрасили на _ балконов (балкона) больше, чем во второй.

Задача 2

Рабочие израсходовали 16 мешков песка, а цемента – на 7 мешков меньше. Сколько мешков цемента израсходовали рабочие?

Ответ: рабочие израсходовали _ мешков (мешка) цемента.

Задание 10.

Решите задачи и введите ответы.

Задача 1

На ветку дерева прилетело 9 синиц, а воробьев – на 4 меньше. Сколько всего птиц на ветке?

Ответ: всего на ветке __ птиц (птицы).

Задача 2

В ящике лежит 7 белых шаров. Это на 2 больше, чем красных. Сколько всего шаров в ящике?

Ответ: всего в ящике __ шаров (шара).

Ответы к заданиям для варианта 2

Задание 1.

Правильный ответ: **30**

Задание 2.

Правильный ответ:	А	Б	В	Г	Д	Е
	1	2	3	4		

Задание 3.

Правильный ответ: **288, 577, 689**

Задание 4.

Правильный ответ:	А	Б	В	Г	Д	Е
	1	2	3	4		

Задание 5.

Правильный ответ: **28, 51, 37, 62**

Задание 6.

Правильный ответ: **<, >, >, <, <, >**

Задание 7.

Правильный ответ:	А	Б	В	Г	Д
	1	2	3	4	5

Задание 8.

Правильный ответ:	А	Б	В	Г	Д	Е
	1	2	3	4	5	

Задание 9.

Правильный ответ: **5, 9**

Задание 10.

Правильный ответ: **14, 12**